

事務局の機構決る

北海道博初の運営委員会

場合これに立会い、汲取完了後、従事者が提出する汲取証明書に記名押印して汲取荷数を証明しなければならぬ」とあるが汲取従事者がそれぞれの会社を通じて市へ提出する汲取証明書はいずれも立会承認印があり故意に改ざんした事実も認められない。したがって形式的には不正は認められないが実質的には相当の疑惑もたれている。それはこの「立会制度」の不徹底あるいは制度そのものが効果的でないことに基因して

明年夏札幌、小樽両市を会場とする北海道大博覧会(略称北海道博)の第一回運営委員会が四日札幌市産業会館で開かれるとともに同事務局の機構が決定した。

運営委はまず総裁田中知事(代理高岡道商工部長)会長高田市長のあいさつで開かれ、同博準備委員長広瀬札幌商會頭の経過報告があったのち、約百数名にお

よる委員の紹介があり、札幌側から桑園、中島会場、小樽側からそれぞれの事業計画について説明が行われ、これを常任委員会に付託することを決定した。ついで札幌会場五億二千万円、小樽会場一億五千万円の予算案を了承したが、事務局側では『函館の北洋博約三億五千万円、佐賀博約二億円、別府博約

三億五千万円と博は予算的にみてものとなる』と目された。

なお事務局の機構は庶務部、会計部、宣

ブルー・ファンネルの巨船や黄色のスマートな船体をした外国船がいきまきりすみなとをにぎわし、紅毛碧眼の異人さんの往来がはげしかったのも今は昔、かつての国際貿易港小樽は住時のなやかさをしのぶべくもない。やはり国際色豊かな接触で小樽は発展をとげてきた——というべきであろう。それだけに小樽っ子は外国人に対してはある種の親しみを感じていることも事実で、いまの三十代以上の人ならだれでも外国人についての思い出をもっているに違いない。そこで、いまなお小樽に在住している青い眼のエトランゼに登場願ひ、どのように小樽の街にとけこんでいるかを語ってもらった。

小樽商大英語教師

ゾルプロッド・レオン・マックスさん
(アメリカ)

○…アジア文化財財の英語教師としてゾルプロッドさんが小樽商大に赴任したのは三十年の十月だから小樽での生活はもう一年半になる。はじめて小樽にきた当時、自分のことを「いらっ

語を使っていたのも、このころはいろいろな言葉の使いわけも覚え、ジョージ・ルイカーを同うにまわしてもはずかしくないほどの上達ぶり。日本が大好きで、自ら希望してやってきたというだけに、まず言葉の国境を

越えたわけである。

○…故郷はペンシルヴァニア州のピッツバーグ市、一九三〇年生れというからことし二十六歳の若さだ。ピッツバーグ大学に在学中陸軍に入隊、昭和二十四年から二十七年まで東京で勤務除隊後ふたたび帰国してワシントン大学に編入、この極東学部で日本文学を専攻したが、この日本語教授がなんと小樽人には深いつながりのあるD・B

・マッキンノンさんのリチャード・ニコルソンさん。マ氏は後(三十四期)金沢のすみ、帰国後ワシントン能の研究に没頭して称号をえた人で、ゾルさんと小樽との縁ははじまったわけである。

○…だが、ゾルプロ



徹底した日本びいき

尺八を吹くのが楽しみ

慣を聞いてから——と日本熱は相当なものでしい。念願かない小樽きたア氏はまもなく美

なればならない。ところが、小樽市を境とする... (Text continues with details about the city and administrative matters.)

と全委員の紹介があり、札幌側から冬岡、中島、小樽側からそれぞれ... (Text continues with committee details.)

な事務所の機構は建設課、庶務課、会計課、宣伝課、出品部... (Text continues with organizational structure.)

から、ソ氏の日本研究は奥行きが深く、ワシントン大学の学生... (Text continues with a profile of a researcher.)

マッキンソンの息子さん... (Text continues with family details.)

ブルー・ファンネルの巨船や黄色のスマートな船体をした外国船がいまさらすみなどをにぎわし、紅毛眼鏡の異人さんの往来がはげしかったのも今は昔、かつての国際貿易港小樽は住居のはなやかさをしのぶべくもない。やはり国際色豊かな接触で小樽は発展を遂げてきたというべきであろう。それだけに小樽の子は外国人に対してはある種の親しみを感ずることも事実で、いまの三十代以上の人ならたれでも外国人についての思い出をもっているに違いない。そこで、いまなお小樽に住居している青い眼のエトランゼに登場し、どのように小樽の街にとけこんでいるかを語ってもらった。

小樽商大英語教師

ソルプロッド・レオン・マックスさん (アメリカ)



マッキンソンの息子さん... (Text continues with a profile of a researcher.)

から、ソ氏の日本研究は奥行きが深く、ワシントン大学の学生... (Text continues with a profile of a researcher.)

マッキンソンの息子さん... (Text continues with family details.)

徹底した日本びいき 尺八を吹くのが楽しみ



懐いたわけである。故郷はペンシルヴァニア州のピッツバーグ市、一九三〇年生れというからことし二十六歳の若さだ。ピッツバーグ大学に在学中陸軍に入隊、昭和二十四年から二十七年まで東京で勤務除隊後またたび帰国してワシントン大学に編入、この極東学部で日本文学を専攻したが、この日本文学がなんと小樽には深いつながりがあるD・B

〇アジア文化財団の英語教師としてソルプロッドさんが小樽に赴任したのは三十年の十月だから小樽での生活はもう一年半になる。はじめて小樽にきた当時、自分のことを「いらっしやいました」と丁寧な日本語を使っていたのも、このころはいろいろな言葉の使いわけも覚え、ジョージ・ルイカーを同様にまわすもはずかしくないほどの上達ぶり。日本が大好きで、自ら希望してやってきたと、ソルプロッドは、まず言葉の環境を

北海道新聞

夕刊 発行所 北海道新聞社 札幌市大通西3丁目6番地 電話(代表)9-2111

清酒 **白雪** シラユキ

春季賃金闘争で緊急質問

目立の警察権介入

人事院勧告 放置は怠慢

久保氏(社)質問


全道四十の教育研究所が共同調査を行うようになっ... (Text continues with details about the survey.)

現在の日本教育は新教育... (Text continues with an analysis of the current education system.)

【松江発】一瞬のうち、十七名の尊い生命を奪った航空自衛隊C46輸送機の海中墜落惨事の救出作業は、航空自衛隊、米軍フェリー・



ボート、境海上保安部巡視艇、やえさくら”米子、境港からの漁夫、消防団員百数十名を乗せた漁船十数隻、救命ボート八隻、潜水夫三名などが出勤、四日夜から五日早朝にかけて風雨つる海上で日米合同の徹夜捜索が行われた。五日午前四時ごろやっと一名の死体が発見され、続いて七名の死体も午前九時までにつきつきと引揚げられ、現場は悲しみにとざされている。捜索船団は当初遭難機を大根島の浅瀬に引航、救出する方法を考え



たが、水中に突き刺さった遭難機の引航が困難なため五日未明、境港から潜水夫を出勤させ、早朝になりやっと機外にはみ出していた八死体の引揚げに成功した。十時の冷たい風雨で海上捜索は困難をきわめ、救助作業中の自衛隊員の中には救命ボートが漂流、松江市竹天町にやっと漂着して命拾いし

失速のた

特別

た一幕もあ発見されたでまんじりた地元遭難ばれ、家族氏名を確認た。八遺体は誌編集長

防衛庁は美保基地で起った航空自衛隊C46輸送機の墜落事故について、五日朝、小滝長官を中心に首脳部会議を開いた結果、秋山航空幕僚副長を委員長とする特別調査委員会を編成、同日昼すぎの飛行機で美保の遭難現場に急派することになった。美保基地からの報告によると、その後の調査で事故原因は『GCA(地上着陸誘導装置)』

での着陸ミス』では左の事故である新事実が明一、事故後六時三到着、雨ため、G開始した二、と、は風速十が吹いては滑走路が常で



佐藤守正三佐



宗教界代表を派遣

岸外相 水爆実験問題で

岸外相は五日の閣議でクリスマス島の英国の水爆実験問題につき「承した。」と報告、各閣僚はこれを了承した。きとくに発言を求め「政府としては座り込み船団派遣などを避け、宗教界代表を英国本国におくって実験中止を申し入れた

派遣される宗教界代表の人選は現在外務省、内閣官房を中心に検討しているが、英国と関係の深い聖公会、救世軍関係者が選

競争率九・四倍

小樽商大、願書締切る

【小樽発】小樽商科大学の入学願書は二日締切り地方分もほぼ出そろったが、五日現在で志願者総数千五百六十五名（小樽受験千五百九名、東京受験五百六名）で定員百六十五名（教職課程を含む）に対し九・四倍強の競争率となっている。

なお昨年の受験者は千八百六十名

でことしはこれより約三百名減っているが受験者が減ったのは全国的な傾向だが北大の千名、学大の二千名減に比べれば減り方は少ない方となっている。志願者の減った原因としては受験料の値上げ、競争率の高い学校を敬遠する、業界の好況から高校卒で就職するものがふえたことなどがあげられる。

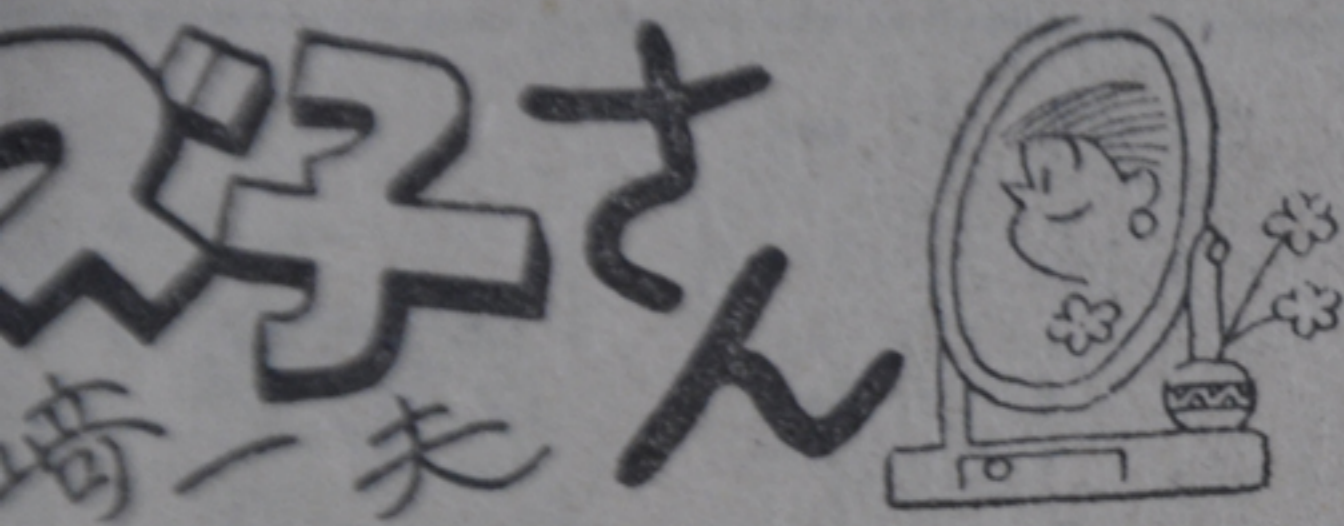
る。

帯広

三・

【帯広発】

入学願書の員百十名に九名、三・九べ九十一名別の応募人ツコ内は定獣医学科学科一七



たけし

素直に認め対策を

革新派 理事者につめ寄る

市議会

十一日の市議会は午後から予算特別、厚生各委員会を開き、特別委員会では終始問題をし尿採取の不正にほり、とくに革新派委員が市の下請業者として委託している共成組に働いている十名名の尿採取ならびに共成組を退職した二人の元尿採取夫から実情をきいて作成した別項のような個人別稼働表を提出、市理事者に激しくつめよったほか、厚生委では「市立小樽衛生試験所条例の一部改正」を可決。他の議案、陳情はいずれも継続審議として十九日に再度委員会を開いて結論を見出す

ととした。尿採取の不正について革新派委員がおもに論議した点は、市理事者は本会議でも実際の尿採取増しについて不正があるかもしれないと言明しながら、素直に事実を認めることを避けているが、革新派委員が提出した資料にも明らかとなり、尿採取夫自身が不正を認めているのだからこの際、きり不正を認めたらえ抜本的対策を考えてはどうか。また請負業者に謝罪声明を出させてはどうか。監査委員も手ぬるい感じを免れないが、なぜ素直に不正を指摘しないのか。浄化その場合は全額会社の収入になるというの

不合理で特定の業者だけに委託すること自体にも納得できない。不都合なことがあった場合には契約を破棄できる条項を加えてはどうか。もともと理想的に考えられるのは市の直営にすることだと思いが、直営にした場合の難点はどうか。このことなどは、これに対し、淡川助役、吉田清博課長は「証明書そのものに不正はない。しかし実際に尿採取した量と証明書の間に差異があるかどうか。どうかについては疑わしい」と思う。と濁し、また謝罪声明については市長の帰郷を待ち相談のうえ善処する。浄化その収入については新年度から実現

をはかりたい。直営にすることは財政的に約一億円の経費を必要とし、函館の例をみてもわかるようにトラブルが起きやすく市民が迷惑をすることにもなるので好ましくない。特定業者に委託しているのもやむをえない事情によるもので、契約の破棄条項を加えることも考慮中で近く市議会ははかりたいと思う。と答弁された。

四割五

革新派委員からし尿採取の不正事実として提出された資料は共成

旭岳、ペテガリの遭難について小樽近郊の朝里岳でも吹雪のため一行三名が下山予定を過ぎても帰らず、捜索隊を繰出すなどの騒ぎとなったが幸い無事であった。しかしこれから

は春山を攀しむスキーがぐんと多くなる季節であり、例年遭難は厳冬よりも春に多く発生している。この春山の心構えについて本誌小樽山岳会常任理事にきいてみた。

×××

軽装は絶対に禁物

×××

△服装、食糧その他準備について「厳冬の登山にはみな相当の準備をしてゆくと、春になるとどうしても気分的にゆるみが出て、つい周到な準備が怠りがちとなる。日中の気温が高いため晴天の時はバツカで登山ができるが気候の変化が激しく、夕方になると急激に気温が下がるのが常で着替えの肌着、ヤッケを半分角裏し、絶対ゲレンデを滑るような軽装を出掛けないこと。また気温の急激な変化でアイスバーンなどが多く、下山する時夜露の不意な人はとくに注意しない風心の意識を怠る。食糧は一日の道のうちでも腹減りを覚悟し、空腹感になる

春山登山の心構え



腹減りを覚悟し、空腹感になる

るので急激に多量の食物が消化し、腹がすくことを怠る。その結果、下山時に腹痛を覚

つた人が二、三日程度の間は相当な苦しさを覚える。これは登山中に十分な準備をしていないからである。

危険な場所避けよ

▽雪崩＝春山で最も危険なのは

服装、食糧は十分に

技術、体力に応じて行程を

登山である。三日以上入る山脈のため、登山者の体力と経験が最も大切である。



高港の崖壁予定地

岸がやつとという有様
崖壁ができると一時に
可能で、漁獲物陸揚
飛躍的に増加すること
の同港整備計画によ
立地に続いて手宮側
を埋立てて造船工場
防波堤をさらに二百
波の浸入を完全に防
設として理想的な市
建築も予定してお
後に高島漁港はすっ
新、近代的漁港に生
である。

仲川仁作(稲穂町七ノ二五)神田
文五郎(花園町東一ノ一六)の六
氏に対し内閣賞勳局に紺綬褒章下
賜の上申をした。

なおこのほか六氏には、さる二
月二十八日の日赤本社評議員会
で赤十字最高の榮譽である金色
有功章が総裁皇后陛下から親授
されることになっており、西田
氏が代表として出席する。

15日に商大卒業式

小樽商大第五回ならびに同大学短
期大学部第三回卒業証書授与式は
十五日午前十時から同大学講堂で
行われる。

市立小樽病院付属准看

護婦養成所生徒合格者

樋原宏
子(幌
内)増

子恵美(岩内) 高杉美智子(古平)
尾田由美子(幾春別) 三浦克子(寿
都) 沢田喜美子(島野) 長野とし
子(幌内) 松本光枝(夕張) 佐藤
洋子(奈井江) 岩田延子(小樽)
坂下千鶴子(古平) 佐藤範子(寿
都) 武井克(泊) 吉井恵千子(小
樽) 本間水穂子(同) 稲田律子
(同) 三島敏子(同) 佐々木玲子

★案内★

12日迄	大小共10円	12日迄	13日迄	必見の文芸大作!	明日も
東映日輪太郎	松竹三羽鳥	総天然色マンダ	総天然色七つ	全映画界の注目 巨匠吐夢の至高 佐野周二・山田 植木基晴・千原 暴れん坊 ドライなたツチ 警視庁物語 白 開場10時30分	日活 幸はド
★猫の玉つ	★うか	★リスのコルタ	★奴隸船	4712 暴れん坊	東映 夕日と
★ハットシヤブ	★淡路	★ピンボウ	★東京ストリッ	開場11時	夜部7時 忘れえ
★ピンのピン	★ハットシヤブ	★ピンボウ	★東京ストリッ	開場12時	開場11時 暁の

米英ソに抗議アツピール

世界平和七人委員会

七人委員会は同日、このアツピールをハマーショルド国連事務総長あて送付するとともに、水爆実験を繰返しているソ連のブルガーニン首相、マクシムコフ英首相、アイゼンハワー米大統領に対しては『三国が伝統的平和愛好国として水爆実験中止の運動に積極的に協力されることを切望する』との要請書を送った。また同委員会の日高一輝事務局長はこの三国あての要請書を同日在京の三国大使館あて提出した。

△ハマーショルド国連事務総長へのアツピール要旨「水爆実験は平和な生活を営む世界の民衆

に対し、予測できない惨害をもたらす可能性をはらんでいる。核兵器による国際間の勢力均衡は、一歩誤れば全人類を破滅に陥れる危険がある。われわれは国連がわき上がりつつある世界の世論と科学者たちの警告にかんがみて、水爆実験禁止協定を成立させるよう急速に措置を講じられることを勧告します。ブルガーニン・ソ連首相あての要旨「われわれはこれまで貴国に水爆実験中止を勧告してきたが、最近これを無視し予告なしの実験を繰返されたことはまことに遺憾である。われわれは

このたび同封のアツピールを連に提出した。貴国が平和愛好国として、われわれの目的達成に協力されることを切望する

菅生事件を取 上ぐ

衆院法務委員は十五日午前十一時からの理事会で「消えた爆弾官」事件として問題になっている大谷菅生駐在所爆破事件を正式に上げ、真相を究明することになった。第二段階として同日午後二時開き警察、検察、法務当局を呼んでこれまでの事情を聞く。社会党はこのほか中村法相、

水爆実験の申

国連事務総長なし

若日本学術会議会長、湯川秀樹博士、前田多門氏ら七人の知識人で組織する『世界平和アツピール七人委員会』が、最近ソ連が行った予告なしの水爆実験と、英国が南太平洋で準備中の水爆実験に抗議する協定を早く成立させてほしい』とのアツピールを発表した。

「宗谷」きょう出港 ケープタウン

【ケープタウン十四日発「ロイター」共同】ケープタウン滞在中の南極観測隊の永田隊長と「宗谷」の山本航海長は空路帰国しようとする日本政府の要請に従い、近く当地を出発する意向である。日本政府は年末に再び南極観測隊を派遣する準備の関係となるべく早く永田隊長、山本航海長と打合せたい考えもあり、両氏がBOAC機でカイロ経由、東京へ帰るようにはかかっているとみられる。出発の日程はまだ最終的に決らないが、両氏はいつでも出発できるよう待機している。なお「宗谷」は予定を六時間繰上げ十五日午前九時（日本時間同日午後四時）出港することになった。

オヒ号船長らを招待

永田隊長と松本船長

【ケープタウン十四日発「AP」特約】南極観測船「宗谷」は十五日ケープタウンを出発、シガボール経由帰国の途につくが、永田隊長と松本船長は十四日ソ連氷船オヒ号のマン船長、マクシムコフ副船長を乗客として招待して宴会を開いた。バク・アイスに関し

たソ連観測隊員に対するお礼のため開かれたもの。席上日本側からマン船長とマクシムコフ隊長に道花の花束と人形が贈られた。これに対しマクシムコフ隊長は日ソ両国科学陣の協力を賞え「科学が人類の福祉のための相互理解への途を示すものなることを希望することになった。

(写真は日ソ両国隊員の乾杯、右端はマクシムコフ隊長「AP」共同)

傷害致死に執行猶予

札幌市北七西二山本方無職李春福(三)の傷害致死事件判決公判は十五日午前十時半から札幌地裁七期開かれ、金沢裁判所の判決三三




行猶予五年(求刑懲役五年)決があった。李は昨年四月夜間市北東七秋書店、生

真新しい背広姿で

小樽商大の卒業式

【小樽発】
小樽商大
同短大の
卒業式が
十五日午
前十時か
ら同学講
堂で行わ
れた。こ
としの卒
業生は商
大が百七
十六名、
短大八十
三名で、
学事報告
のあと学



長代理から総代の石田安雄君（商大）山形栄治君（短大）に卒業証書が渡され、病床の大野学長が「つねに自主的判断をもつた道德的勇者たれ、さらばゆけ」と書き送った告示を本部教授が朗読、さらに文相祝辞、来賓祝辞、宮下久雄君（商大）青木光雄君（短大）の答辞、記念品授与などがあつて

式を閉じた。
式場に並んだ卒業生はいずれも就職決定済みで真新しい背広姿が半数を占め紅一点の松尾千鶴子さんの姿もまじり、いずれも晴れの日を迎えた喜びでいっぱい表情だった。
（写真は小樽商大の卒業式）

奈井江で捕る

ラーメン屋
殺しの牧口

札幌市のラーメン屋強盗致死事件の有力容疑者として指名手配されていた住所不定無職牧口智也（三）は十五日正午ごろ空知郡奈井江町内を回った。たいていを少川（三）に捕らえられた。その後、奈井江に向つたものらしい。
小樽で夜の女取締り
【小樽発】小樽署では十四日小樽市内街しようの一斉取締りを行い九名を同市風紀条例違反で逮捕した。

ま八い水昨え十二訪人の入のたの帰詐刑手はま本
は八い水昨え十二訪人の入のたの帰詐刑手はま本

ラジオ

24日
日曜日

北海道新聞 前5:55 6:45 7:55 8:55 ▲9:55▲10:55 11:45
 後▲0:55 1:55 ▲2:55 ▲3:55 4:55 5:55 6:55 10:00 11:00 ▲0:00
 NHK(第一) 前5:30 6:00 7:00 8:00 9:00 ▲10:00 ▲11:00
 後0:00 1:00 ▲2:00 3:00 ▲4:00 5:00 7:00 9:00 10:00 11:00
 (第二) 前7:55 後▲0:55 8:00 (注▲印は日曜・祭日なし)

HBC 札幌 1190
 帯広 1460
 室蘭 1500

00 国会の焦点
 15 佐田啓二と共に
 30 朝のひととき

00 週間録音ニュース
 25 お早う皆さん 楠トシエ
 45 ペンギンタイム

05 社会放談
 35 ご機嫌いかが 来宮良子
 40 レナウン歌の集い

10 歌のない歌謡曲
 30 明日への健康
 45 青春ミュージック・タイム 中原早苗

00 歌はあなたと共に
 30 手まり音楽サロン 柏正子、中原早苗
 55 証券ニュース解説

00 ルーテルアワードキューメンタリードラマ『他人事ではない』
 35 狸小路お買物メモ

00 素人ものまね コンクール 伴淳三郎ほか
 40 参天堂 歌謡メロディー
 45 ポポンタイム 西条凡児

00 歌の玉手箱 司会楠トシエ
 30 ビタベビーアワー『わが親ははなばな氏』フランキー堺、花子ほか

00 『我が夢は緑なりき』伊志井寛、青山京子、高杉早苗ほか
 30 『大成吉思汗』森繁久彌、中原早苗ほか

00 この声百万ドル (ID) = 南支那地区予選 =

NHKカ1 札幌 570
 帯広 960
 室蘭 780

15 普及員便り『八円牛乳のその後』
 40 週間新聞論調

15 ホームドラマ『札幌の空の下』札幌放送劇団
 45 ラジオ談話時記 村野四郎

05 音楽の泉『喜遊曲第17番ニ長調』(モーツァルト曲)ほか解説 堀内敬三

10 音楽夢くらべ 諸井三郎、服部正、横山はるひ
 40 『アラビアン・モーニング』徳川夢声ほか

15 クレヨンさん『金色の兔』(玉川雄介作)札幌放劇
 30 声比べ腕比べ

00 立体音楽堂『スラヴ行進曲』(チャイコフスキー曲)ほか
 25 連続講談『三国志』馬琴

15 第十回NHK のど自慢全国大会入賞者発表

05 放送討論会『健康保険法の改正はどうあったらよいか』藤本捨助、岡本隆一、江幡清、小林利光

00 劇場中継『一谷嫩軍記』陣門・組討 尾上松緑、梅幸、中村福助、片岡市蔵ほか

05 音楽の宴 ラテンアメリカ音楽集『青春の夢』

NHKカ2 札幌 750
 帯広 1080
 室蘭 1080

00 ロシア語入門講座
 30 イタリア語入門 講座 奥野拓哉

00 酪農講座 村上 馨
 15 学界便り『最近のストレス学説について』

00 加藤玄智博士を訪ねて
 30 家庭と学校『『P・T・A相談』』Pの立場

00 気象通報
 10 日本語のスケッチ『客商売の人々』
 30 読書案内 源氏物語

00 音楽クラブの『ローゼンストックの残したもの』吉田秀和、雅夫@パルトークについて

00 立体音楽堂 第一放送と同じ
 25 邦楽『中之舞』寺井啓之、北村治、大倉七左衛門

00 メトロポリタン・オペラアワー 喜歌劇『ホフマン物語』(オッフェンバック曲) メトロポリタン歌劇場 管弦楽団と合唱団、指揮 トーマス・シッパー

00 第四回 NHK杯争奪囲碁トーナメント 決勝前半 藤沢九段対坂田九段 解説長谷川七段
 30 サンデーコンサート

30 ラジオ体操の歌発表 千代田区公会堂にて
 40 大相撲春場所 千秋楽実況

NHKテレビ 第3 CH

11:30 NHK週間ニュース
 0:15 大衆演芸中継①漫才 源次郎、静子@カブキ踊り 浅草桃太郎一行@安来節 梅奴

2:30 大相撲春場所実況
 6:00 漫画『愉快な演芸会』
 6:10 『よしきたゴンちゃん』(18) 山本輝雄

6:40 『飛びっちょはねっちょ』津山英二ほか
 7:10 駅まで六分 (12) 夏川静江、沢村宗之助

7:30 素人即席演芸会
 8:00 テレビ映画劇場◇短編『平安美術』◇劇映画『ミラノの奇蹟』(監督V・デ・シーカ) フローラ・カンビ、アンナ・カレーナ

10:20 ニュースの焦点

ラジオ東京 950

6:35 歌のノートブック
 7:30 落語『ざこ八』正藏
 8:00 『特ダネお笑い記者』内海突破、宝とも子

8:30 新国劇『丹下左膳』辰巳柳太郎ほか
 9:10 浪曲 春日井梅鶯
 10:05 石門捕物帳市川中車
 10:15 柳生武芸帳田辺南遊
 11:45 星へのいざない

日本文化 1130

6:00 日本のどこかで
 7:10 落語独演会『孝行糖』三遊亭金馬

小樽商大入試問題

第一日

社会 (二科目選択)

一般社会 (I) インフレーションが生ずると、(1)企業経営、(2)消費生活、(3)貿易、(4)金融および(5)財政の各面にどのような影響が現われるか。
 (II) 次の事項を説明しなさい。
 イ、比例代表制 ロ、労災保険 ハ、国字問題 ニ、シャーマン法 ホ、知る権利

時事問題 (I) 近頃我が国の経済白書で(A)『ことしは地固めの時、来年から前進への道』、また、(B)『ことしは戦後経済最良の年』、という意味のことが述べられている。これについて下記の問に答えなさい。
 イ、(A)、(B)でいう『ことし』とは、いつの年を指しているか。
 ロ、『地固め』の必要な理由は何か。
 ハ、『地固め』のためどんな政策がとられたか。
 ニ、『最良の年』を示す主な事例を二つあげなさい。

(II) 省略
世界史 (I) 次の文中の空欄に適当な言葉をいれなさい。(答案用紙に番号をうつして答を書くこと。)

『ロシアは(1)世紀に、スラブ人の内紛に乗じた(2)人によつて建国され、13世紀には(3)によつて滅ぼされて(4)国の支配下におかれたが、15世紀に独立して(5)が皇帝の位についた。その後(6)王朝がたち、(7)や(8)の啓蒙専制政治によつて国力を強化し、18世紀はじめには(9)戦争によつて(10)海沿岸に達し、また東進して(11)ころにはカムチャッカに達した。しかし国民の多くは貧困にくるしみ、1825年には(12)がおこり、1861年の(13)もきわめて不徹底で、青年貴族やインテリゲンチヤのうちには、(14)主義



航空界ことしのプラン

日航で夜間飛行

日ペリ 冬季割引を据え

半年の間ツバサを休めていた本道の航空界もグンと春めいた陽気に誘われて活発に動き始めた。北日本航空の洞爺湖水上游覧飛行の実現、日航の夜間飛行開始など各社とも気合の入った計画をボンボンと進めている。

北日本は洞爺湖遊覧

まず日航はドル箱札幌線の強化のため昨年より一足早くこの十五日から一日三便制を実施したが、これは昨年来を二、三割上回る観光客の増加が予想されているので本格的な観光シーズンに入る五月中旬すぎからさらに一往復を増発。このほかシーズン最盛期に入る七月十日から九月にかけて夜間便一往復を飛ばし合計五往復と同線開始以来最大の輸送体制を打ち出す。

この夜間便は深夜東京、札幌を出発、早朝到着するもので国内では初めの試み。料金は普通便の一割五分引きとなる見込みだが、同社ではこの割引料金を国鉄の特二客や従来日ペリにとられていた団体客をゴッソリ奪い取ろうとコシタンタン。

これに対抗する日本ヘリコプターでは現在行っている札幌―東京間八千二百四十円の冬季割引をこと

秋か
一方、
ことし
子屈な
にした
での水
計画し
でに使
月早々
「暇快
眺望を
めてい

生理めのの一名生存

声が聞えるまで到達

赤平薄井鉦

【赤平発】既報一二千二百早朝発生した赤平市字赤間ノ沢薄井炭鉱の落盤事故で採炭夫二名が生理めのとなり四十名の救援隊の手によつて生理めののうへではお彼岸とすうのうへ二十三日朝、全道各地にわたる寒波が襲き、冬に逆もどりの格好だった。札幌警署が被害者への報告による被害者の遺体発見は、旭川市、三好、帯広、二八、三川、二七、北見、二四、二六、四、札幌、二五、二四、二二、二一、二〇、一五、帯広、二八、二七、二六、二五、二四、二三、二二、二一、二〇、一九、一八、一七、一六、一五、一四、一三、一二、一一、一〇、九、八、七、六、五、四、三、二、一、〇、

てまる一昼夜不眠不休の救援作業が続けられていたが、二十三日午前六時ごろまでに約五割取除け作業が進み生理めの鈴木光孝さん(三三)と高橋為吉さん(三〇)の音が聞える地点にまで到達、二人とも生きてることが確認された。二人とも重傷を負っている模様で、さらんあとまた四、五割取除け作業を行わなければならない、夜までかかる模様だが、これで救助の見込みはついたわけ。

木の下の敷きで死亡
【夕張発】夕張市紅葉山三十代農業内海蔵記さん(三〇)は二十一日午前自宅横の山に薪切りにいったまま帰って来ないので捜索した結果、紅葉山百二十三班の山中で切り倒した木の下の敷きになり死亡しているのを二十三日午前一時ごろ発見した。

四東七北光アパート内札幌中央電報局員小中政美さん(三三)が同市北七東五北劇場場内で映画観覧中、若い三人組の男に廊下に連れ出され、ナイフを突きつけられて背広の上衣と持っていた皮カバン(二千円相当)を奪われたと札幌北署に届出た。同署では間もなく同劇場付近で樺戸郡浦臼村少年K(一七)を恐かつ現行犯で捕え、共犯の住所不定無職上田某(三〇)同吉田某(三三)を同容疑で指名手配した。

間接証拠の積み重ね

白鳥事件 一二被告の無罪主張

白鳥事件(前) 町長公判無罪主張 女給仕と警官を殴る 白鳥事件(前) 町長公判無罪主張 女給仕と警官を殴る

寒波 20.5度

三 四 五 六 七 八 九 十 十一 十二 十三 十四 十五 十六 十七 十八 十九 二十 二十一 二十二 二十三 二十四 二十五 二十六 二十七 二十八 二十九 三十 三十一 三十二 三十三 三十四 三十五 三十六 三十七 三十八 三十九 四十 四十一 四十二 四十三 四十四 四十五 四十六 四十七 四十八 四十九 五十

婦殺し控訴審

の足寄川畔に誘い出しカケ落ちを
思つたが、断られたので手ぬぐい
で首を絞め現金七千円と腕時計を
奪ひ、仮死状態のキヌさんを足寄
川に投込んだもの。

創路地裁帯広支部で三十一年四
月、現金や腕時計を奪うために
殺したのではないとして殺
人、窃盗で無期懲役の判決を言
渡されたが、検察側で事実誤認
と量刑不当を理由に控訴してい
た。



小樽商大の入学試験始まる

十人に一人という小樽商大の入学一カ所が始まった。小樽試験場の一女六名を交えた七百八十六名が受験、第一時間目の国語に続いて理

小樽商大入学試験問題

国語 「抜すい」

一人間が歴史を持つということはどういふことであるか、左記の文の論拠によつて説明しなさい。(八十字以内)

もしわれわれが絶対に新しいものを作るのであつたら、われわれは歴史の中にいないことになるであらう。しかしまたその反対にわれわれが何等の創造もなく、与えられたものとしてその単なる機械的変化若しくは変形を事とするものであつたら、丁度動物がその種族のなしたことを繰返しているに過ぎないようであつたら、やはりわれわれは歴史を持たぬこととなる。

三次の文を読んで後の問に答えなさい。

老人東順は榎氏にして、その祖父江州堅田の農士竹氏と称す。榎氏といふは晋子が母かたによるものならし。ことし、七十歳ふたとせの秋の月を病める枕のうへにながめて、花鳥の情、露を悲しめる思ひ、限りの床のほとりまで神みだれず。つひにさらしな句をかたみとして、大乘妙典のうてなに響る。若かりし時、医を学んで恒の産とし、本多何某の公より俸錢を得て釜魚瓶塵の愁すくなし。されども世路をいとひて、名聞の衣をやぶり、杖をくじいて業を捨つ。すでに六十年のはじめな

科、社会の問題に真剣な面持ちで
取り組んでいた。

ママの恋人!

ほくさんのプロバン

り。市店を山居にかへて楽しむところ筆をはなはず。机を去らぬこと十年あまり、その筆のすさみ車にこぼるるがごとし。湖上に生まれて東野に終りをとる。これかならず大隅朝市の人なるべし。

入る月の跡は机の四隅かな (『風俗文選』東順伝)
(註) (一)榎本東順——其角の父。晋子——其角の別号。
(二)さらしな句——其角の『信濃にも老が子はありけふの月』に対し、東順が『子とうばとたがかへて見んけふの月』とよんだ句

(問一略す)

問一 『花鳥の情、露を悲しめる思ひ、限りの床のほとりまで神みだれず。』とは、どういふ状態をいつたものか説明しなさい。
問二 つぎの語句と同じ意味のことをあらわしている語句を文中から抜き出して書きなさい。
イ 江州堅田 ロ 市店を山居にかへて

五 左の各組の人名または書名を年代順に並べかえなさい。答は例にならつて符号でしるすこと。

- | | | | | | | | | | | | |
|---|---|---|---|---|---|---|---|---|---|---|---|
| 例 | イ | 宗 | 祇 | ロ | 二 | 糸 | 良 | 基 | ハ | 心 | 敬 |
| 1 | ニ | 西 | 行 | ホ | 兼 | 好 | | | ヘ | 長 | 明 |
| 2 | ト | 人 | 麻 | チ | 赤 | 人 | | | リ | 額 | 田 |
| 3 | ヌ | 藤 | 原 | ル | 藤 | 原 | 俊 | 成 | ヨ | 紀 | 友 |
| 4 | ワ | 好 | 色 | カ | 日 | 本 | 水 | 代 | ヨ | 世 | 間 |
| 5 | タ | 冬 | の | レ | 猿 | 養 | | | ソ | 炭 | 俵 |

能登山	戸田	二	山	大
鎌山	羽子	若	山	大
伊集院	福	若	山	大
津野海	伊勢	大	山	大
滝見山	時津	平	山	大
天津	前	大	山	大
大	劍	鬼	山	大
大柳山	常	及	山	大
房	福	里	山	大

起雲	大田	双	山	大
東海	大浦	清	山	大
小野	神生	安	山	大
芳野	愛	羽	山	大
福海	宮	三	山	大
吉井	泉	成	山	大
八	星	島	山	大
北	広	大	山	大
朝	大	信	山	大
出	大	玉	山	大
大	大	こ	山	大
琴	岩	大	山	大
時	国	若	山	大
高	時	千	山	大

好取組 二人とも休朝十分た
けに力のこもつた大相撲が展開さ
れそうだが、朝は左手の取り方が
害にうまく、左のおつつけも完全
に近いから、玉の右に差し勝つた
ろう。朝は得意になつたら左から
玉の体を押しながら寄りこむ



ザル法とカゲ口をたたく防止法はこの四月から一転業、女の更生、性病を減らした課題が多く

この機会に転業

札幌・帯広、異例の申合

波紋を投じた。

○…昨年四月売春防止法が公布されてからこの一年の準備期間中に転業や廃業した特飲店は全道で四十軒、一方売春婦は冷害凶作のオロでいままでの四千名から逆に五百名ほどふえているという。業者の転業先はさすがに旅館が全体の約七割を占め、このほかでは下宿屋、パーマ、カフェーなど。この旅館に転業が多いところから、赤線が旅館形態をとって『白線』や『さかさくらげ』に乗換えたと言戒する者もある。

札幌市菊水料飲店組合（組合長渡辺和吉氏）組合員八軒）ではこのほど開いた総会で『できるだけ早い機会に売春をやめ、正業につく』ことを申合せた。そして二十四日現在、すでに特飲店二軒が休業、一日までにさらに二軒が転業することになっている。この組合は三十七年の伝統をもつ旧白石遊廓で、このシニセ？のあざやかな転身ぶりはまだフンギリがつかない同業者の先ベンをつけたものだ。

して三月末まででいままでの客引きをやめ、女の前借金も全部棒引きにして新しい姿で再出発することを申合せ『この申合せが守れない組合員は除名する』という強い態度を決めた。

とここで三月に入ってから札幌と帯広にある二つの料飲店組合が、ぜひこの機会に足を洗おうと再発足を申合せ、業界に

また帯広地方料飲店組合（組合長山下卓二氏）三十四軒）は七日の総会で『このさい法を精神を理解

とくに同組合では現在のままの姿ではいかに売春をやめたといっても世間の疑惑は解けないからと、五月までには全部が店内を改造してホールを設け、純粋なカフェーとして出発したいというもの。組合員全員が集団で転業を決めたのは全道的に異例のケースで成行きが注目されている。

売春婦は逆に増加

○…売春をやめたら生活ができなくなるといふ業者もまたまた多

つ、分け前もいままでの四分六分を五分五分に引上げるから』（北見）とただめたり、すかしたりして女の機嫌をとり結ぶなど、手口

が悪ラツになってきたという。ここにも残った一年の荒稼ぎをもくろむ業者のたくましい商魂がある。

注目の小林証言

営生事件 あす控訴審公判

【福留】市本橋...として百高八輪...の直接の上司た

【福留】市本橋...として百高八輪...の直接の上司た

【福留】市本橋...として百高八輪...の直接の上司た



わされた。
品川間の電車の中
は、暴行されたも起つ
警官隊四百名が出
つた結果、二十四日
きようやくおさまつ
て器物損壊、暴行現
が検挙された。

小樽商大入学試験問題

数学・簿記 【抜すい】

一般数学

- (1) 7個の数字0,1,2,3,4,5,6から相異なる5個の数字をとりだして5桁の整数をつくる時、4の倍数となるものはいく通りできるか。
- (2) つぎのデータはそれぞれ15人からなるA, B二つのグループの所得を示したものである。これをもとにして、両者間の(算術)平均所得の関係及び標準偏差の関係はおおよそいくらであるかを述べよ。

A.	1,008円	2,002円	3,001円	3,010円	4,009円
	4,021円	5,006円	6,010円	6,011円	7,030円
	7,040円	8,025円	8,030円	9,000円	10,050円
B.	3,000円	5,010円	7,020円	7,030円	9,010円
	9,030円	11,020円	13,040円	13,045円	15,020円
	15,045円	17,030円	17,040円	19,020円	21,048円

解析 I

(1) $\frac{2}{7(x-2)} > \frac{1}{4(x-1)} + \frac{x+9}{28(x^2+3)}$ を解け

幾何

(1) 円に内接する四辺形 ABCD において DA, CB の交りを P, BA, CD の交りを Q とするとき、 $\angle APB$ と $\angle AQD$ の二等分線は直角に交わることを証明せよ。

簿記

- 1 財産目録と貸借対照表との相違を成る可く詳しく述べなさい。
- 3 或商店において、売上総利益の売上高に対する割合(総益率)が大体一定しているものとするれば、下記の資料によつて妥当な期末商品棚卸高を計算しなさい(計算式も明らかにすること)。
- イ) 前期繰越高 250,000円 ロ) 当期仕入高 800,000円
ハ) 当期売上高 950,000円 ニ) 総益率 20%

四本、横浜線一本、相模線六本、赤羽線六本、常磐線十七本、京浜、東北、山手、中央線各百

急行もそれぞれ二十分か三十分遅れた。
△東京着下り急行「月光」一

急行のため、東京着の遅れとなつたため、これに接続する

調べ

特急暴走事件

【千歳発】二十三日千歳郡恵庭町

福島医大合格者

△進学課程
山崎慎也(帯)

三条) 庄司守(網走)

原子物理学の ラ博士来日

原子力委員会と原子力産業会議が招いたノルウェーの世界的原子物理学者で国連事務総長の特別顧問グンナー・ラングース博士は二十三日午後十一時二十分羽田着の日航機で来日した。博士は日本の原子力開発、とくに船舶用動力炉の問題について原子力委員会をはじめ日本の関係方面と意見を交換、東京と大阪でそれぞれ講演を行い四月五日離日の予定。

小樽商大入試問題

第二日

数学・簿記 (二科目選択)

一般数学 (1) 7個の数字 0,1,2,3,4,5,6から相異なる5個の数字をとりだして5桁の整数をつくる時、4の倍数となるものは幾通りできるか。

(2) 次のデータはそれぞれ15人からなるA, B二つのグループの所得を示したものである。これをもとにして、両者間の(算術)平均所得の関係及び標準偏差の関係はおよそいくらであるかを述べよ。

A.	1,008円	2,002円	3,001円	3,010円	4,009円
	4,021円	5,006円	6,010円	6,011円	7,030円
	7,040円	8,025円	8,030円	9,000円	10,050円
B.	3,000円	5,010円	7,020円	7,030円	9,010円
	9,030円	11,020円	13,040円	13,045円	15,020円
	15,045円	17,030円	17,040円	19,020円	21,048円

解析 I (1) $\frac{2}{7(x-2)} > \frac{1}{4(x-1)} + \frac{x+9}{28(x^2+3)}$ を解け。

(2) $f(x)$ は $x > 0$ において定義され、その値は $\log x$ と 0 とのうちの大きい方をとるものとする。このとき $y=f(x)$ と $y=f(\frac{1}{x})$ との図表をえがけ。また次の等式および不等式を証明せよ。

(a) $\log x = f(x) - f(\frac{1}{x})$ (b) $|\log x| = f(x) + f(\frac{1}{x})$ (c) $f(xy) \leq f(x) + f(y)$

解析 II (1) 曲線 $y = -x^2 + 6x$ と x 軸との間にはさまれる面積が曲線 $y = ax^2$ によって二等分されるとき a の値はいくらになるか。

(2) 三角形 ABC において $\sin A, \sin B, \sin C$ が等差数列をなすとき $\cot \frac{A}{2}, \cot \frac{B}{2}, \cot \frac{C}{2}$ もまた等差数列をなすことを証明せよ。

幾何 (1) 円に内接する四辺形 $ABCD$ において DA, CB の交りを P, BA, CD の交りを Q とするとき、 $\angle APB$ と $\angle AQC$ の二等分線は直角に交わることを証明せよ。

(2) 空間にある正三角形を一つの平面上に正射影したとき、三辺の長さがそれぞれ 2, 3, $2\sqrt{3}$ であるような三角形がえられた。もとの正三角形の一辺の長さはいくらか。

簿記 1 財産目録と貸借対照表との相違を成る可く詳しく述べなさい。

2 次の取引について仕訳をしなさい。

- 1) さきに甲商店の売掛代金 50,000円 に対して、同店振出し小切手を受取り預け入れたが、不渡となった。
- 2) 北日本銀行より資金借入れに当つて、所有国庫債券額面 1,000,000円、帳簿価格 990,000円 を担保として同行に差入れた。
- 3) 営業用土地を 300,000円 で購入し、仲介手数料として 12,000円、整地費として 20,000円、購入代価と共に小切手を振出し支払つた。

"Put that watch into my pocket," he said angrily.

The rider jumped with fear and put up his hands quickly. "My god, mister," he whispered, "I thought you" Evans put his hand in his own vest pocket and with trembling hands he tried to put the watch down into the doctor's pocket. Without looking at it, Doctor Benson pushed it down into his pocket. He opened the door and forced the man out of the car.

Mrs. Sorley's many previous experiences with bringing children into the world apparently helped her greatly because she delivered this child with little difficulty. After it was all over, Doctor Benson now with a lighter heart, began to tell Mr. Sorley of his midnight adventure on the road.

"Well, I'm glad he gave it to you back," Otto said smiling, "Because if he hadn't, we wouldn't have any idea what time our child was born. What time would you say it happened, Doc?"

Doctor Benson took the watch from his pocket.

"The baby was delivered about thirty minutes ago, and right now it's" He walked to the lamp on the table.

He stared strangely at the watch in his hand. The crystal was cracked, the top was broken. He turned the watch over and held it closer to the lamp. He studied the words inscribed there:

"To Private Y. Evans, Ambulance Section, whose personal bravery preserved our lives the night of Nov.-3, 1943, near the Italian front. Nurses Nesbitt, Jones and Wingate."

* (註 ambulance: A moving hospital following an army: A vehicle equipped for transporting sick or wounded persons.)

次の十五問の質問につき、答がそれぞれ四つずつ示されてあるが、最も正しいもの一つを選んで、その記号 (a, b, c, d) を解答用紙に記入せよ。

小樽商大入試問題

第二日

数学・簿記 (二科目選択)

一般数学 (1) 7個の数字 0,1,2,3,4,5,6から相異なる5個の数字をとりだして5桁の整数をつくる時、4の倍数となるものは幾通りできるか。

(2) 次のデータはそれぞれ15人からなるA, B二つのグループの所得を示したものである。これをもとにして、両者間の(算術)平均所得の関係及び標準偏差の関係はおよそいくらであるかを述べよ。

A.	1,008円	2,002円	3,001円	3,010円	4,009円
	4,021円	5,006円	6,010円	6,011円	7,030円
	7,040円	8,025円	8,030円	9,000円	10,050円
B.	3,000円	5,010円	7,020円	7,030円	9,010円
	9,030円	11,020円	13,040円	13,045円	15,020円
	15,045円	17,030円	17,040円	19,020円	21,048円

解析 I (1) $\frac{2}{7(x-2)} > \frac{1}{4(x-1)} + \frac{x+9}{28(x^2+3)}$ を解け。

(2) $f(x)$ は $x>0$ において定義され、その値は $\log x$ と 0 とのうちの大きい方をとるものとする。このとき $y=f(x)$ と $y=f(\frac{1}{x})$ との図表をかき、また次の等式および不等式を証明せよ。

(a) $\log x = f(x) - f(\frac{1}{x})$ (b) $|\log x| = f(x) + f(\frac{1}{x})$ (c) $f(xy) \leq f(x) + f(y)$

解析 II (1) 曲線 $y = -x^2 + 6x$ と x 軸との間にはさまれる面積が曲線 $y = ax^2$ によって二等分される時 a の値はいくらになるか。

(2) 三角形 ABC において $\sin A, \sin B, \sin C$ が等差数列をなすとき $\cot \frac{A}{2}, \cot \frac{B}{2}, \cot \frac{C}{2}$ もまた等差数列をなすことを証明せよ。

幾何 (1) 円に内接する四角形 ABCD において DA, CB の交りを P, BA, CD の交りを Q とするとき、 $\angle APB$ と $\angle AQC$ の二等分線は直角に交わることを証明せよ。

(2) 空間にある正三角形を一つの平面上に正射影したとき、三辺の長さがそれぞれ 2, 3, $2\sqrt{3}$ であるような三角形がえられた。もとの正三角形の一边の長はいくらか。

簿記 1 財産目録と貸借対照表との相違を成る可く詳しく述べなさい。

2 次の取引について仕訳をしなさい。

1) さきに甲商店の売掛代金 50,000円 に対して、同店振出し小切手を受取り預け入れたが、不渡となった。

2) 北日本銀行より資金借入れに当つて、所有国庫債券額面 1,000,000円、帳簿価額 990,000円 を担保として同行に差入れた。

3) 営業用土地を 300,000円 で購入し、仲介手数料として 12,000円、雑地費として 20,000円、購入代価と共に小切手を振出し支払つた。

4) 従業員の退職に備えて、引当金 500,000円を設定し、別にこれを管理するため同額を信託預金とした。

5) 期末棚卸商品の原価 800,000円で、その時価が 750,000円となつたので、棚卸価額を修正することにした。

3 或商店において、売上総利益の売上高に対する割合(繰上率)が大体一定しているものとするは、下記の資料によつて妥当な期末商品棚卸高を計算しなさい(計算式も明らかにすること)。

イ) 前期繰上率	250,000円	ロ) 当期仕入高	800,000円
ハ) 当期売上高	950,000円	ニ) 繰上率	20%

英語

問題1 省略

問題2 次の short story を内容を考へて読み、下の質問に答えよ。

The November wind was bringing sounds of winter as it blew against the car which Doctor Benson was driving on the deserted highway after midnight. He disliked the prospect of the job ahead of him.

Mrs. Otto Sorley, whom Doctor Benson was on his way to visit, already had nearly a dozen children, but it seemed to the doctor that never once had she a baby in good weather, nor at a reasonable hour.

It was a long ride out to the Sorley farm and the sight of a man walking alone along the country road was a welcome relief to the doctor. He stopped the car and invited the man to ride. The man told Doctor Benson that his name was Evans and that he had driven an ambulance for four years at the front. Since the war ended he had driven a truck, but he had lost his job a month before, and now he was on his way to Detroit to find a job there.

After a few minutes he said to the doctor, "Could you give me a cigarette?" The doctor took out a package from the outer pocket of his overcoat and gave it to the rider who then looked in his own pocket for a match. When the cigarette was lighted, the man held the package a moment, then asked, "Do you mind, mister, if I take another cigarette for later?"

The rider shook the package to remove another cigarette without waiting for the doctor to answer. Doctor Benson felt a hand touch his pocket.

"I'll put them back in your pocket," the little fellow said. Doctor Benson put his hand down quickly to receive the cigarettes and was a little irritated to find them already in his pocket. The doctor caught his first good look at the small, catlike face. He also noticed the long deep scar on the man's cheek, no doubt of recent origin. He thought of Mrs. Sorley and reached for his watch to see if he was not late. His fingers went deep into his pocket before he realized that his watch was not there.

Doctor Benson moved his hand very slowly and very carefully below the seat until he felt the automatic pistol which he always carried to defend himself. He stopped the car quickly and pushed the nose of his gun into Evans' side.

"Put that watch into my pocket," he said angrily. The rider jumped with fear and put up his hands quickly. "My god, mister," he whispered, "I thought you ..." Evans put his hand in his own vest pocket and with trembling hands he tried to put the watch down into the doctor's pocket. Without looking at it, Doctor Benson pushed it down into his pocket. He opened the door and forced the man out of the car.

Mrs. Sorley's many previous experiences with bringing children into the world apparently helped her greatly because she delivered this child with little difficulty. After it was all over, Doctor Benson now with a lighter heart, began to tell Mr. Sorley of his midnight adventure on the road.

"Well, I'm glad he gave it to you back," Otto said smiling, "Because if he hadn't, we wouldn't have any idea what time our child was born. What time would you say it happened, Doc?"

Doctor Benson took the watch from his pocket. "The baby was delivered about thirty minutes ago, and right now it's ..." He walked to the lamp on the table.

He stared strangely at the watch in his hand. The crystal was cracked, the top was broken. He turned the watch over and held it closer to the lamp. He studied the watch inscription there:

"To Private Y. Evans, Ambulance Section, whose personal bravery preserved our lives the night of Nov. 3, 1943, near the Italian front. Nurses Nesbitt, Jones and Wingate."

(註 ambulance: A moving hospital following an army; A vehicle equipped for transporting sick or wounded persons.)

次の十五問の質問につき、答がそれぞれ四つずつ示されてあるが、最も正しいもの一つを選んで、その記号(a, b, c, d)を解答用紙に記入せよ。

1. About how many children did Mrs. Sorley already have?
a. Three b. Six c. Nine d. Twelve

2. 3 省略

4. When did the doctor realize that his watch was not in his pocket?
a. When he handed Evans the package of cigarettes. b. When he felt Evans' hand touch his pocket. c. When he wanted to know if he was not late. d. When he took out the pistol.

5. What did Evans do with the package of cigarettes that Doctor Benson gave him?
a. He took one cigarette. b. He took two, and lighted both. c. He took two, but kept one for future use. d. He kept the whole package.

6. When did the doctor begin to suspect Evans?
a. When Evans asked for a ride. b. When Evans asked for a cigarette. c. When Evans told he was jobless. d. When the doctor saw the deep scar on his cheek.

7, 8, 9, 10, 11, 12, 13, 14, 15 省略

問題3 次の英訳せよ。

- (A) 1. 彼の無作法さには一同あきれた。
- 2. 加藤博士は日本文学の権威者である。
- 3. おそく来ましてすみません。
- 4. 昨日そこで何が起きたのですか。
- 5. 彼ももう二、三年生きていたらなあ。

(B) 最近色々な新薬が沢山売り出されているが、その効果があやしいものも少いらしいから、使用には充分な注意が必要だと思ふ。

問題4 省略

問題5 次の各文には同じ語(下線の語)が二度使われているが、(1)と(2)のうちから比較的強勢が置かれて発音されるか。解答用紙[解答5]の()の中の方の語の番号を書け。

- How do you know that he will do it willingly? (1) (2)
- You will see a white building over there. That is the house that you want. (1) (2)
- He lives in a big and fine house, and he says he is poor. (1) (2)
- They named the boy Jack, and as he grew up, Jack proved to be a born man. (1) (2)
- There are two houses there. (1) (2)
- He is not a negro, but I don't mind even if he is. (1) (2)

共済連合会を組織する... 山が一時五分の時限ストと... 中小企業で二十年間みられた... 山が一時五分の時限ストと... 中小企業で二十年間みられた... 山が一時五分の時限ストと... 中小企業で二十年間みられた...

ムーブにされたことを喜んでいる。この運動は終戦直後、ともかく学校を満足させるという目的で、採用しても無理をしている面が多く、それらの無理が重なっている。この際地ならしして学校造

暖かい春の日射しとともに長

名に増員するほか運搬のトナ

ックも同じく九台から十二台

にあちし市内のおちこち

またゴミや灰の処理に当る

が、一方市民

にもゴミ箱、

灰捨て場、下

水、便所のま

わりなどの清掃を中心に調

りをせむ行ってほしいと協力

を呼びかけている。

暖かい春の日射しとともに長

名に増員するほか運搬のトナ

ックも同じく九台から十二台

にあちし市内のおちこち

またゴミや灰の処理に当る

が、一方市民

にもゴミ箱、

灰捨て場、下

水、便所のま

わりなどの清掃を中心に調

りをせむ行ってほしいと協力

を呼びかけている。

退職者は15名

▽中学校 猪股義一(長橋) 菊地美津子(旭ヶ丘) 加藤正一(富岡) 矢島良一(神田マサ) 住吉(小田信子)(福見台)

▽小学校 原田清子(長橋) 本間公男(手宮西) 富田嘉子(河合三ヨ) (福橋) 高取シヅカ(原) 佐々木節子(富岡) 中村幸(慶沢) 小林京子(福見台) 井上英子(花園)

以上三月三十一日付



市議会議員 本間喜代人氏

〇…昨年十二月、内海航路で就いてきた淡路丸という小客船で上海へ渡航、正味一週間の滞在で帰国したのですから、みやびのしつみやびというのはこれくらいのものでしょう」と、顔におさめた壁掛を取出した。杭州特産のこの壁掛は美しいしつみやびといわれ、黄浦江を距りて望んだ上海の威容がク



- ⑤ ツクリ
- 浮き出
- てみえ
- る独特
- の美術
- 品だ。
- 右手に
- マンシ
- オンホ
- テル、
- ガーデ

杭州で特産の壁掛け 昔のみじめさ消えた中国

性の一部に赤いネッカチーフをしている人がおりましたが、化粧は全然していません。商店には化粧品も売っているのですが、買う人がいないのです。ね。ある女の人にきいてみました。国に建設に協力するため貯金する

のだそ

うで、も

う二、三

年しなび

れば化粧

ができな

くどう

話でした

くかこ

国が復興

を第一と

し重工業

の振興に

力を入れ

ているか


にたさわ

しい徹底

がらひで

た。しか

し、それかたうしてかかた



ンブリッ、そして中央にいまは上海人民委員会の建物となつてゐる。その周囲には、多くの高層ビルが立ち並ぶ。その中には、上海人民委員会の建物がある。その周囲には、多くの高層ビルが立ち並ぶ。その中には、上海人民委員会の建物がある。

年のユースで、教育優先の考え方があつた。上流の小中学校は、理詰め、理詰めを余蘊なくやっていた。しかし一九四四年に米軍が上海を占領した。その時、日本の教育は、

出航は六月初旬と
塚社長も四月下
半定で、基地とす
はカコブを入れて
公社の分について
いが、いまの情勢
形勢とみてよいだ
ムの誘致について
海道に設置するこ
るので心強く思っ
に盛られていない
二十三年度には建
るということで、
馬、道後など有力

ることになるが、
つけるつもりであ

ズンに
火訓練
の火災シーズン
、都通で特殊建

市農協組として新発足することに
決定した。新組合の定款などは各
組合、部落から選出された合併委
員らが協議して作成、四月中旬に
開く総会にはかる予定。

今夏ロンドン に留学

喜多商大助教授



小樽商大助教
授喜多了祐氏
(三)は英国留
学生試験に合
格、ロンドン

大学から研究生として招かれたの
で、ことし八月渡英する。ロンド
ンでは英国文化振興会の奨学金で
約一カ年比較商法学を研究する。

(写真は喜多助教授)

回転競技記録会 小樽ス

キー連盟では二十一日午前十時か
ら天狗山で回転競技記録会を行
う。参加要領は中学生、高校生、
一般男子、女子の四グループで出
場希望者は当日会場で受付ける。
参加料は不要。

冷い春の水ぞも